

Nombres et calcul

Exercice 1

Ecris les nombres dictés :

A B C D E F

1	9	0	item 1
---	---	---	--------

Exercice 2

Écris les nombres en lettres.

143
 98
 816

1	9	0	item 2
---	---	---	--------

Exercice 3

Complète les égalités :

18 dizaines = unités
 5 centaines = unités
 3 centaines et 6 unités = unités
 12 dizaines et 3 unités = unités

c <i>centaines</i>	d <i>dizaines</i>	u <i>unités</i>
....
....
....
....

1	9	0	item 3
---	---	---	--------

Exercice 4

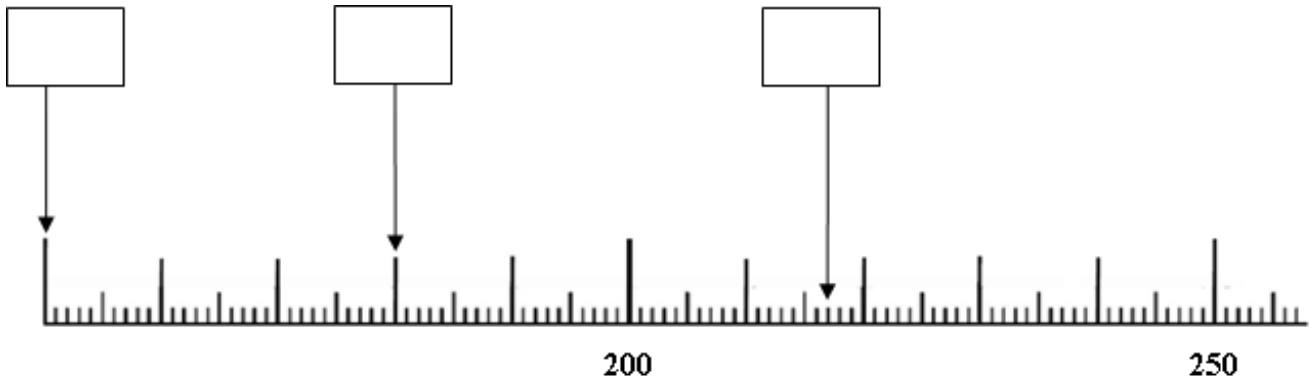
Coche la suite où les nombres sont rangés du plus petit au plus grand.

- 431 413 314 134 43 34
- 34 43 314 134 431 413
- 34 43 134 314 431 413
- 34 43 134 314 413 431

1	9	0	item 4
---	---	---	--------

Exercice 5

Écris le nombre qui correspond à chaque flèche.



1	9	0	item 5
---	---	---	--------

Exercice 6

Entoure le nombre le plus grand dans chaque série.

237 ; 92 ; 315	475 ; 452 ; 469	548 ; 578 ; 518
----------------	-----------------	-----------------

1	9	0	item 6
---	---	---	--------

Exercice 7

Écris le résultat des calculs :

A

B

C

1	9	0	item 7
---	---	---	--------

D

E

F

1	9	0	item 8
---	---	---	--------

Exercice 8

Écris le résultat des calculs :

A

B

C

1	9	0	item 9
---	---	---	--------

D

E

F

1	9	0	item 10
---	---	---	---------

Exercice 9

Pose et effectue les opérations suivantes

$207 + 49 + 115 =$

1	9	0	item 11
---	---	---	---------

$247 - 135 =$

1	9	0	item 12
---	---	---	---------

$364 - 218 =$

1	9	0	item 13
---	---	---	---------

Exercice 10

Papa a 20 euros dans son porte-monnaie. Il achète une barquette de fraises à 4 euros et un sac de pommes de terre à 2 euros.

Combien lui reste-t-il d'argent ?

Réponse

.....
.....
.....

1	9	0	item 14
---	---	---	---------

Exercice 11

Il y a 28 élèves dans la classe de CE2. Le maître veut faire des équipes de 4 élèves.

Combien peut-il faire d'équipes ?

Réponse

.....
.....
.....

1	9	0	item 15
---	---	---	---------

Exercice 12

Un lion mange 8 kg de viande par jour. Le zoo a 3 lions.

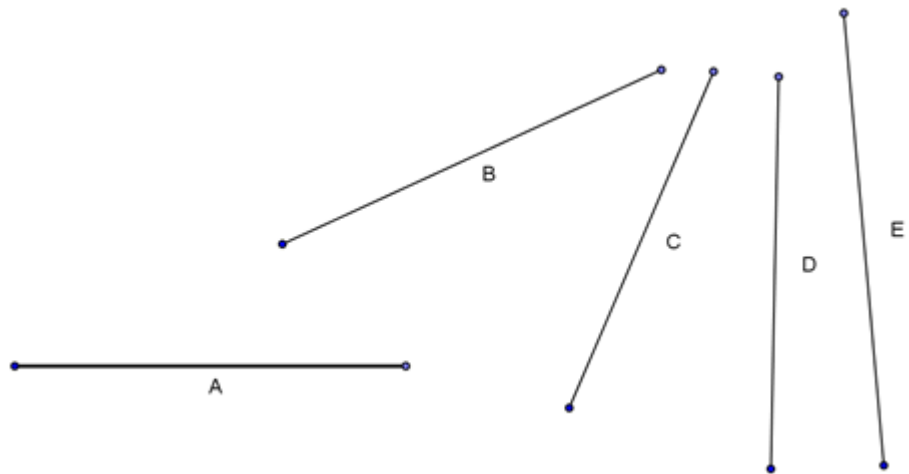
Quelle quantité de viande faut-il pour nourrir les lions chaque jour ?

Réponse

.....
.....
.....

Exercice 13

Colorie en bleu
le segment qui a
la même longueur
que le segment A

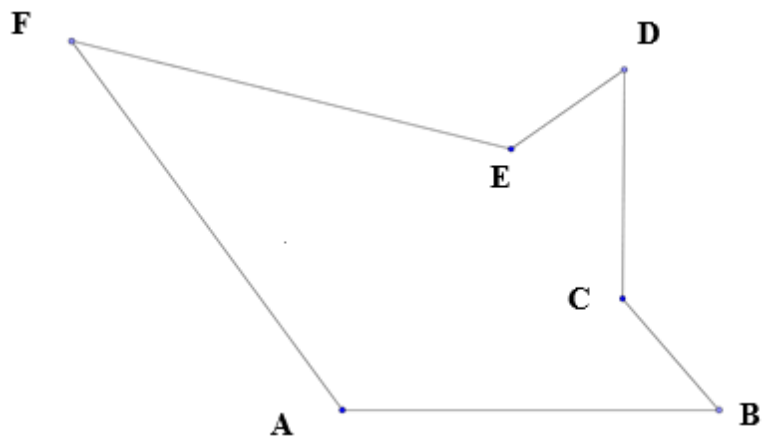


Exercice 14

1	9	0	item 17
---	---	---	---------

Mesure les segments et complète
les phrases :

- Le segment [AB] mesure cm.
- Le segment [CD] mesure cm.
- Le segment [EF] mesure cm.



Exercice 15

1	9	0	item 18
---	---	---	---------

Trace avec ta règle un segment de 7 cm à partir du point A.

A •

1	9	0	item 19
---	---	---	---------

Exercice 16

Complète avec le nom de l'unité qui convient : mètres - grammes - heures - euros - litres.


- Le trajet en avion de Paris à New-York dure 7
- Le vélo de course jaune coute 675
- La tour Eiffel mesure 324
- La plaquette de beurre pèse 250

1	9	0	item 20
---	---	---	---------

Exercice 17

Géométrie

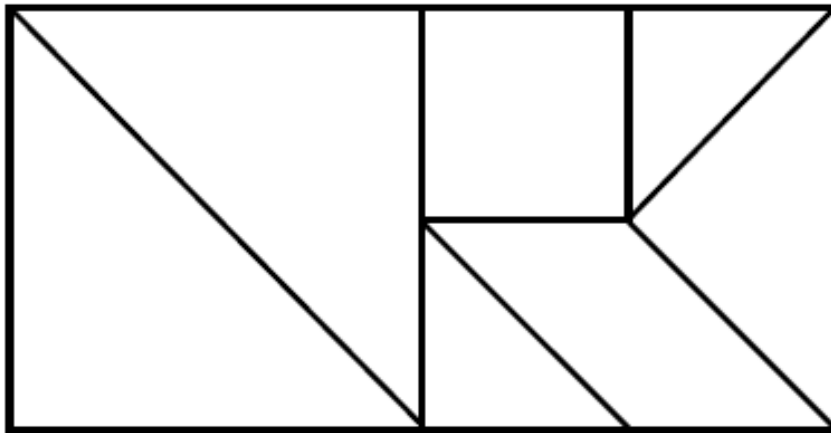
Cherche 3 points alignés et complète la phrase Les points sont alignés.



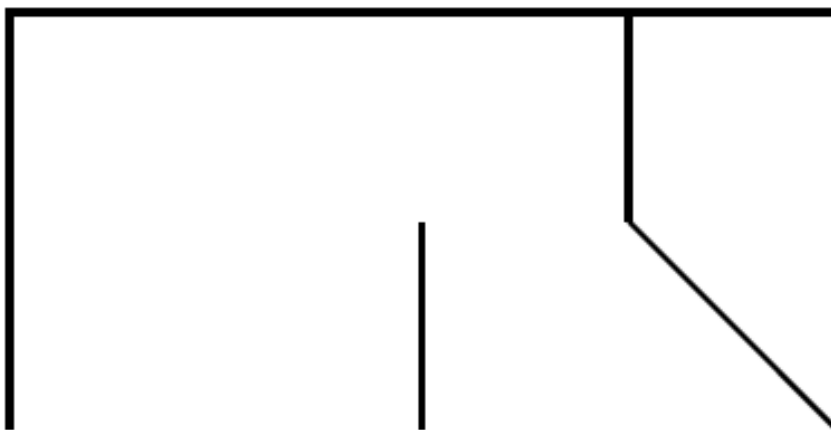
Exercice 18

1	9	0	item 21
---	---	---	---------

Voici une figure que tu dois reproduire



On a commencé. Termine la figure en utilisant ta règle.



1	9	0	item 22
---	---	---	---------

Exercice 19

Lis le tableau et réponds à la question.

Monsieur et Madame Quentin vont prendre l'avion. Leurs bagages pèsent 12 kg en tout. Le tableau suivant indique les tarifs pour le transport des bagages par la compagnie aérienne Grand-Air.

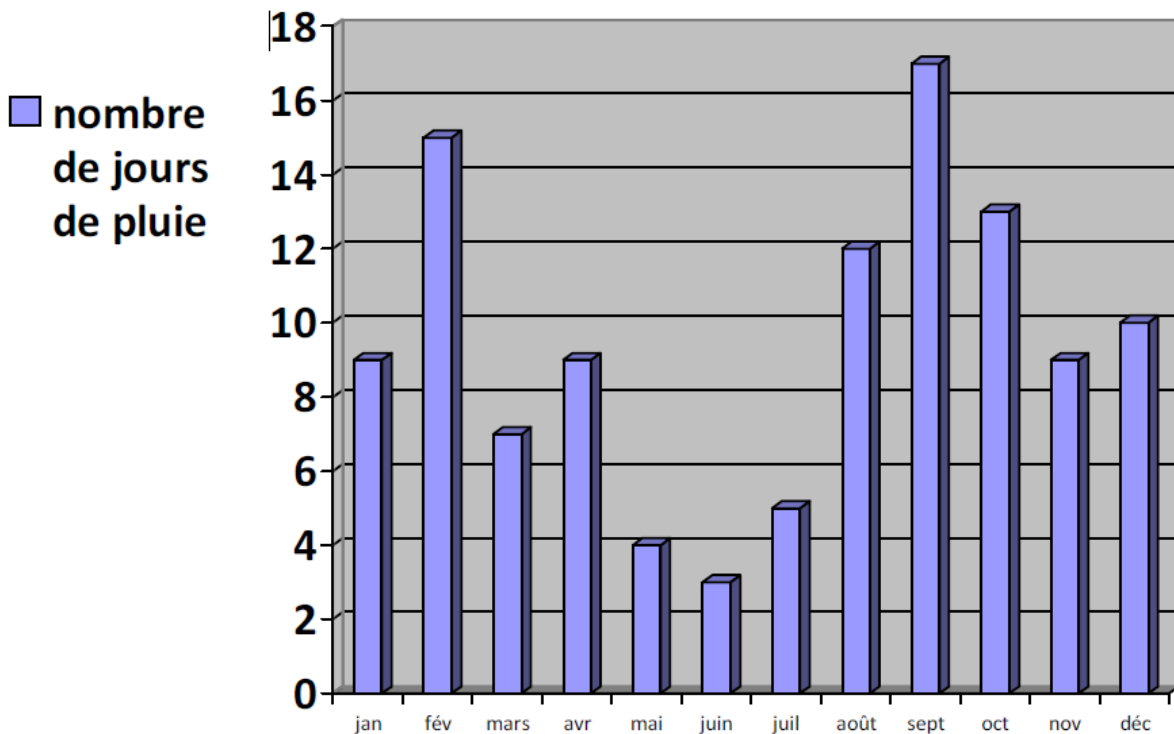
Tarif du transport des bagages					
Poids	Moins de 5 Kg	de 5 kg à 10 Kg	de 10 kg à 15 Kg	de 15 kg à 20 Kg	Plus de 20 Kg
Prix à payer	Gratuit	7 euros	10 euros	15 euros	25 euros

Combien vont-ils payer ?

1	9	0	item 23
---	---	---	---------

Exercice 20

En t'aidant du graphique, réponds aux questions.



Combien y a-t-il eu de jours de pluie au mois d'août ?

Quel mois y a-t-il eu le plus de jours de pluie ?

1	9	0	item 24
---	---	---	---------

Quels sont les mois de l'année où il y a eu moins de 8 jours de pluie ?

.....

1	9	0	item 25
---	---	---	---------